

Мектеп: \_\_\_\_\_

Аты-жөні: \_\_\_\_\_

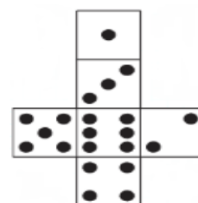
- 1) Ағайындылардың жас айырмашылығы екі жыл. Анасының туған күніне ағайындалырдың әрқайсысы, қанша жаста болса, сонша раушан гүлін сыйлады. Анасы 8 раушан гүлін алды. Ағайындылар неше жаста? (1 ұпай)

ЖАУАБЫ: \_\_\_\_\_

- 2) 1-ден 16-ға дейін сандарды жазу үшін барлығы қанша цифр қажет? (1 ұпай)

ЖАУАБЫ: \_\_\_\_\_



- 3) Егер берілген суретті текше ретінде жинап, онда егер текше астында 3 нүкте болса, текшенің үстінде қанша нүкте болады?(1 ұпай)






ЖАУАБЫ: \_\_\_\_\_

- 4) Екі сөреде 23 кітап болды. Жаңа кітаптар сатып әкеліп, әр сөреде қанша кітап тұрса, тағы да сонша кітап қойылды. Енді екі сөреде қанша кітап болды? (1 ұпай)

ЖАУАБЫ: \_\_\_\_\_


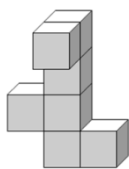
5)  +  = 4кг

 +  +  = 13кг

 +  = 34кг

 = ? ЖАУАБЫ: \_\_\_\_\_

- 6) Мына фигураның үстінен қарағандағы суретін сал. (2 ұпай)



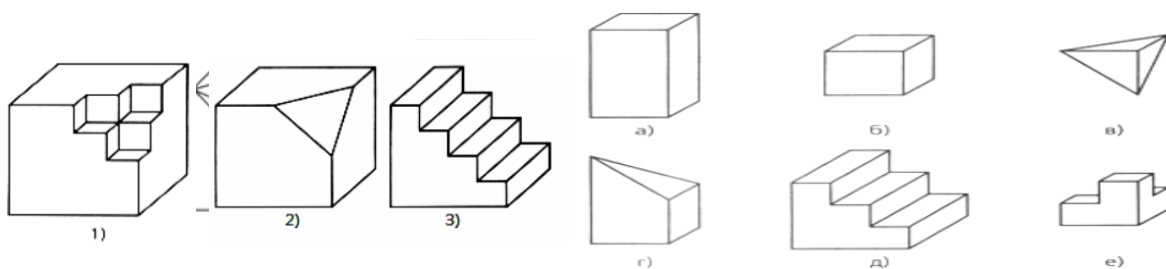
\_\_\_\_\_

7) Жасырылған санды табыңыз: 3, 8, ?, 15, 17, 18 (2 ұпай)

ЖАУАБЫ:

\_\_\_\_\_

8) Текшелерден әртүрлі бөліктер кесіп алынды. Кесіп алынған бөлшегін табындар.



(3 ұпай: әр дұрыс жауап үшін 1 балл)

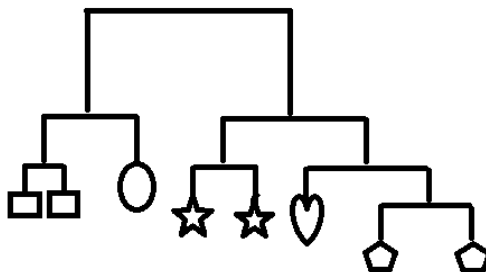
ЖАУАБЫ: 1) \_\_\_\_\_ 2) \_\_\_\_\_ 3) \_\_\_\_\_

9) Таяқшалардан мына жазба құрастырылды. Барлық таяқшалардың салмағы бірдей. М әрпі 12 гр болса, жазбадағы барлық таяқшалардың салмағы қанша? (3 ұпай)



ЖАУАБЫ: \_\_\_\_\_

10) Төртбұрыштың салмағы 20 гр болса, онда бесбұрыштың салмағы нешеге тең? (4 ұпай)



ЖАУАБЫ: \_\_\_\_\_

Мектеп: \_\_\_\_\_

Аты-жөні: \_\_\_\_\_

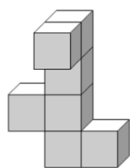
- 1) Ең үлкен тақ екітаңбалы сан мен ең кіші жұп үштанбалы санды қосқанда қанша шығады? (1 ұпай)

ЖАУАБЫ: \_\_\_\_\_

- 2) Фигураның 6 бұрышы бар еді, 2-уін кесіп тастады. Қанша бұрыш қалды? (1 ұпай)

ЖАУАБЫ: \_\_\_\_\_

- 3) Мына фигураның үстінен қарағандағы суретін сал. (1 ұпай)



ЖАУАБЫ: \_\_\_\_\_

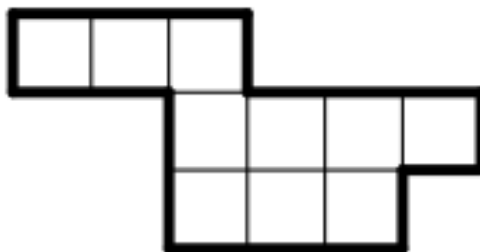
- 4) Екі сөреде 23 кітап болды. Жаңа кітаптар сатып әкеліп, әр сөреде қанша кітап тұрса, тағы да сонша кітап қойылды. Енді екі сөреде қанша кітап болды? (1 ұпай)

ЖАУАБЫ: \_\_\_\_\_

- 5) Мектеп ауласында 17 қыз бен 19 ұл ойнап жүр. Оларды 8 топқа теңдей (яғни, әр топтағы оқушылар саны бірдей болу керек) бөлу үшін, ең аз дегенде қанша оқушы келіп қосылу керек? (2 ұпай)

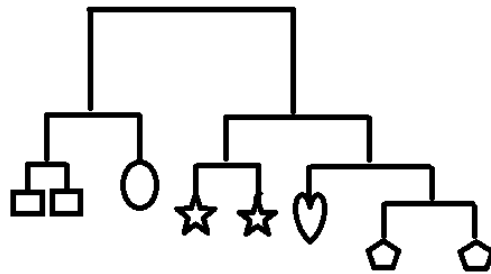
ЖАУАБЫ: \_\_\_\_\_

- 6) Суреттегі фигураны тең екі бөлікке бөліңдер (оны тек тор сызықтары емес, диагональдары бойынша да бөлуге болады). (2 ұпай)



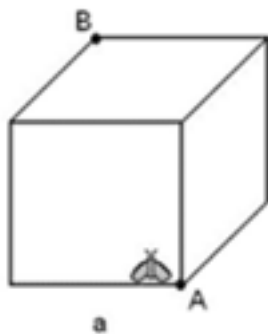
ЖАУАБЫ: \_\_\_\_\_

- 7) Төртбұрыштың салмағы 20 гр болса, онда бесбұрыштың салмағы нешеге тең?  
(2 ұпай)



ЖАУАБЫ: \_\_\_\_\_

- 8) Шыбынның саяхаты. Шыбын А нүктесінен шығып, текшенің табанындағы төрт қабырғаны 4 минутта айналып шыға алады. Ол А төбесінен қарама-қарсы В төбесіне қанша уақытта жетеді? (3 ұпай)



ЖАУАБЫ: \_\_\_\_\_

- 9)  $FEMO + F + E + M + O = 2019$  ребусын шешіндер (әртүрлі әріптерге әртүрлі цифрлар сәйкес келеді). (3 ұпай)

ЖАУАБЫ: \_\_\_\_\_

- 10) Ағылшын алфавитінде 26 әріп бар. Глория әріптерді 01 мен 26 дейінгі екітаңбалы сандармен шифрлап шықты (12 болса, 12-мен, 6 болса 06-мен). Z әрпі 15 болса, онда A әрпі 16 болады, тағы сол сияқты. Егер L әрпі 18 санымен шифрланса, “121506190726” сөзін анықтаңдар. (4 ұпай)

ЖАУАБЫ: \_\_\_\_\_

3 сынып

2019 жыл 1 желтоқсан

Мектеп: \_\_\_\_\_

Аты-жөні: \_\_\_\_\_

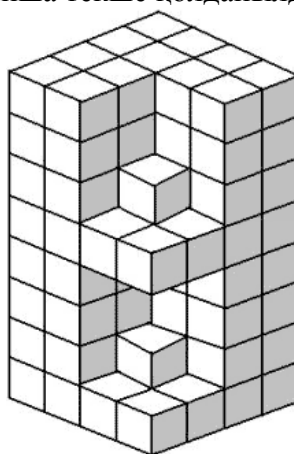
- 1) 95-тен 104-ке дейінгі сандардың жазу үшін барлығы қанша цифр қажет? (1 ұпай)

ЖАУАБЫ: \_\_\_\_\_

- 2) Дори, Джон және Лукас бір мектепте, бірақ 5, 7 және 9 сыныптарда оқиды. Егер Дори 5 сыныпта, 9 сыныпта оқымайтын болса, ал Джон 5 сыныпта оқымайтын болса, кім қай класта оқитынын табындар? (1 ұпай)

ЖАУАБЫ: \_\_\_\_\_

- 3) Мұнараны тұрғызу үшін қанша текше қолданылды? ((1 ұпай)



ЖАУАБЫ: \_\_\_\_\_

- 4)  $3 \times 3$  сиқырлы квадратының кейбір торларындағы сандар өшірілген (бағаны, жолы және диагоналы бойынша қосындысы тең болатын квадрат).  $x$ -тің орнында қандай сан болу керек? (1 ұпай)

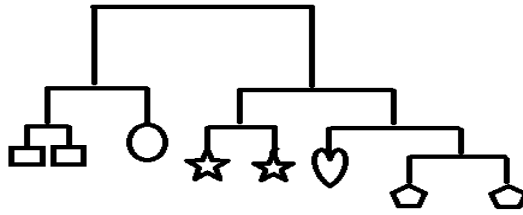
14	19	
	15	
$x$	11	

ЖАУАБЫ: \_\_\_\_\_

- 5)  $FEMO + F + E + M + O = 2019$  ребусын шешіндер (әртүрлі әріптерге әртүрлі цифрлар сәйкес келеді). (2 ұпай)

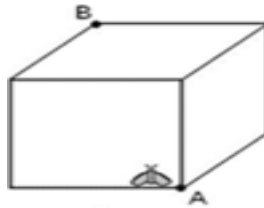
ЖАУАБЫ: \_\_\_\_\_

- 6) Төртбұрыштың салмағы 20 гр болса, онда бесбұрыштың салмағы нешеге тең? (2 ұпай)



ЖАУАБЫ: \_\_\_\_\_

- 7) Шыбынның саяхаты. Шыбын А нүктесінен шығып, текшенің табанындағы төрт қабырғаны 4 минутта айналып шыға алады. Ол А төбесінен қарама-қарсы В төбесіне қанша уақытта жетеді? (2 ұпай)




ЖАУАБЫ: \_\_\_\_\_

- 8) Ағылшын алфавитінде 26 әріп бар. Глория әріптерді 01 мен 26 дейінгі екітаңбалы сандармен шифрлап шықты (12 болса, 12-мен, 6 болса 06-мен). Z әріпі 15 болса, онда А әріпі 16 болады, тағы сол сияқты. Егер L әріпі 18 санымен шифрланса, “121506190726” сөзін анықтаңдар. (3 ұпай)

ЖАУАБЫ: \_\_\_\_\_

- 9) Бір текше төрт жағынан көрсетілген. Текшенің жазбасына сандарды қойып шығыңдар. (3 ұпай)



ЖАУАБЫ: \_\_\_\_\_

- 10) Лукас пен Джон суреттегі Артур патшасының дөңгелек үстеліндегі серілерді сағат тілі ретімен санады. Лукастағы 7-ші сері Джонда 47-ші болды, ал Джондағы 7-ші сері Лукаста 30-шы болды. Артур патшасының дөңгелек үстелінде қанша сері бар? (4 ұпай)

ЖАУАБЫ: \_\_\_\_\_

2019 жыл 1 желтоқсан

Мектеп: \_\_\_\_\_

Аты-жөні: \_\_\_\_\_

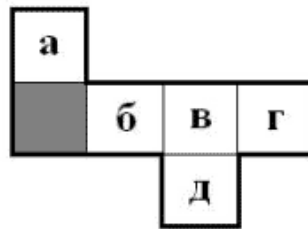
- 1) Майкл мен Джим 100 метрге жүгіріп жарыспақшы болды. Майкл 5 метр жүгіргенде, Джим 4 метр жүгіреді. Майкл фиништен өткенде Джим неше метр жүгіреді? (1 ұпай)

ЖАУАБЫ: \_\_\_\_\_

- 2) Адам Смит 500\$-ға Apple компаниясының акциясын сатып алды. IPHONE 11 шыққаннан кейін Apple акциялары 2 есе өсіп кетті. Адам өзінің акцияларының ширегін сатып жіберді. Адамда Apple компаниясының қанша долларлық акциясы қалды? (1 ұпай)

ЖАУАБЫ: \_\_\_\_\_

- 3) Суретте текшенің жазбасы көрсетілген. Жіңішке сызықтар – бүктеу сызықтары. Жазбаны ойша бүктеп, текше жаса. Егер боялған жағы – текшенің төменгі жағы болса, онда жоғарғы жағы қайсысы болады? (1 ұпай)



ЖАУАБЫ: \_\_\_\_\_

- 4) Балабақшадағы топта 25 бала бар. 13 бала үздік сурет конкурсына, 17 бала пластилиннен үздік фигура құрастыруға қатысты. Қанша бала екі конкурсқа да қатысты? (1 ұпай)

ЖАУАБЫ: \_\_\_\_\_

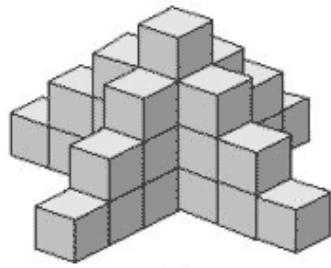
- 5) Сара мен Дэнни ойын ойнады, жеңгенге 2 балл, ал жеңілгенге 1 балл берілді. Сара бар болғаны үш ойында ұтты, ал Дэнни ойын соңында 5 балл жинады. Олар барлығы қанша ойын ойнады? (2 ұпай)

ЖАУАБЫ: \_\_\_\_\_

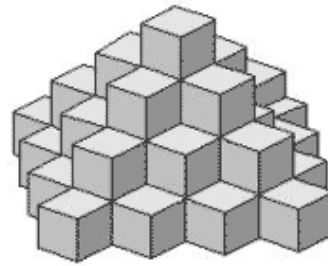
- 6)  $FEMO + F + E + M + O = 2019$  ребусын шешіңдер (әртүрлі әріптерге әртүрлі цифрлар сәйкес келеді). (2 ұпай)

ЖАУАБЫ: \_\_\_\_\_

- 7) Мұнараны тұрғызу үшін қанша текше қолданылды? (екі жауап болу керек)(2 ұпай)



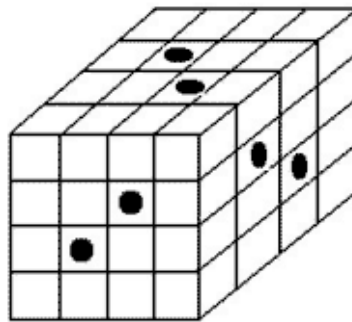
а



б

ЖАУАБЫ: \_\_\_\_\_

- 8) Үлкен текше кішкентай ағаш текшелерден желімдеп құрастырылған. Одан қырларына параллель түсетін 6 тесік жол жүргізілді. Қанша кішкентай текше бүлінбеді? (3 ұпай)



ЖАУАБЫ: \_\_\_\_\_

- 9) Жанұяда 4 бала бар. Әр үшеуінің жастарының қосындыларын қарастырсақ 22, 20, 17 және 25 деген сандар шығады. Ең үлкені мен ең кішісінің жастарының айырымын табыңыз. (3 ұпай)

ЖАУАБЫ: \_\_\_\_\_

- 10) 26 баладан тұратын топта кейбіреулері “F”-тен басқа барлық әріптерді біледі (олар жазған кезде бұл әріпті тастап кетеді). Ал қалғандары “E”-ден басқа барлық әріптерді біледі, олар да жазған кезде бұл әріпті тастап кетеді. Бір күні мұғалім 8 оқушыдан “FMO” сөзін жазуды, басқа 12 оқушыдан “EMO” сөзін жазуды, ал қалғандарынан “FEMO” сөзін жазуды сұрады. Сонда “FMO” және “EMO” сөздерінің әрқайсысы 10 реттен жазылды. Қанша бала өзінің сөзін дұрыс жазды? (4 ұпай)

ЖАУАБЫ: \_\_\_\_\_